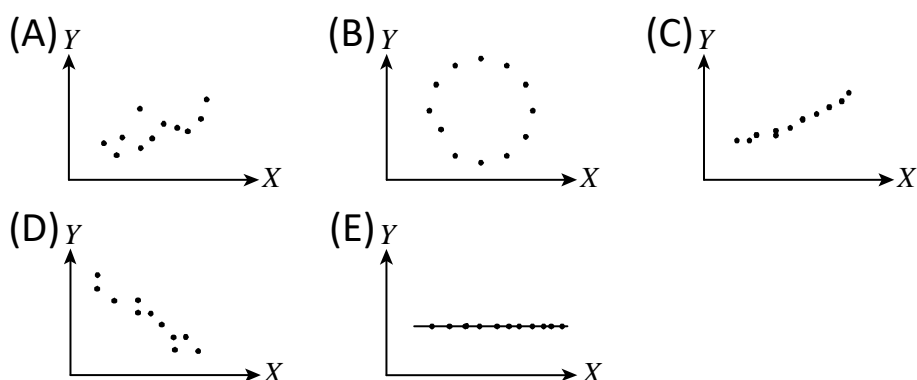


6-2 二維數據分析(常考題型 1)

下列有(A)到(E)五個散布圖，哪些呈現正相關？哪些呈現負相關？哪些呈現零相關？



解答

正相關：(A)(C)；負相關：(D)；零相關：(B)(E)

解析

由散布圖判斷，正相關：(A)(C)；負相關：(D)；零相關：(B)(E)。

6-2 二維數據分析(常考題型 2)

某肥皂廠商欲推出一種新產品，在上市前以不同的單價 x (單位：十元) 調查市場的需求量 y (單位：萬盒)，調查結果如表，問 x 和 y 的相關係數接近下列哪一個值？

- (1) $\frac{4}{5}$ (2) $\frac{2}{5}$ (3) 0 (4) $-\frac{2}{5}$ (5) $-\frac{4}{5}$.

x	8	9	10	11	12
y	11	12	10	8	9



解答

5

解析

x_i	y_i	$x_i - \bar{x}$	$y_i - \bar{y}$	$(x_i - \bar{x})(y_i - \bar{y})$	$(x_i - \bar{x})^2$	$(y_i - \bar{y})^2$
8	11	-2	1	-2	4	1
9	12	-1	2	-2	1	4
10	10	0	0	0	0	0
11	8	1	-2	-2	1	4
12	9	2	-1	-2	4	1
50	50			-8	10	10

$$\bar{x} = \frac{1}{5}(8+9+10+11+12) = 10, \quad \bar{y} = \frac{1}{5}(11+12+10+8+9) = 10,$$

$$r = \frac{\sum_{i=1}^5 (x_i - \bar{x})(y_i - \bar{y})}{\sqrt{\sum_{i=1}^5 (x_i - \bar{x})^2 \cdot \sum_{i=1}^5 (y_i - \bar{y})^2}} = \frac{-8}{\sqrt{10 \times 10}} = -\frac{8}{10} = -\frac{4}{5}, \text{ 故選(5).}$$

6-2 二維數據分析(常考題型 3)

(1)證明相關係數的性質： a, b, p, q 均為實數，令 $W = pX + a$ ， $Z = qY + b$ ，設 $r_{(x,y)}$ 表示 X 與 Y 的相關係數， $r_{(w,z)}$ 表示 W 與 Z 的相關係數，則

①若 $pq > 0$ ，則 $r_{(w,z)} = r_{(x,y)}$ 。

②若 $pq < 0$ ，則 $r_{(w,z)} = -r_{(x,y)}$ 。

(2)設變數 X 與 Y 的相關係數 $r_{(x,y)} = 0.56$ ，若 $X' = 1000X + 600$ ， $Y' = -500Y - 300$ ，則變數 X' 與 Y' 的相關係數 $r_{(x',y')} = ?$



解答

(1)見解析;(2) - 0.56

解析

(1)由於

$$\begin{aligned} r_{(w,z)} &= \frac{\sum_{i=1}^n (w_i - \bar{w})(z_i - \bar{z})}{\sqrt{\sum_{i=1}^n (w_i - \bar{w})^2 \sum_{i=1}^n (z_i - \bar{z})^2}} = \frac{\sum_{i=1}^n (px_i + a - (p\bar{x} + a))(qy_i + b - (q\bar{y} + b))}{\sqrt{\sum_{i=1}^n (px_i + a - (p\bar{x} + a))^2 \sum_{i=1}^n (qy_i + b - (q\bar{y} + b))^2}} \\ &= \frac{\sum_{i=1}^n (px_i - p\bar{x})(qy_i - q\bar{y})}{\sqrt{\sum_{i=1}^n (px_i - p\bar{x})^2 \sum_{i=1}^n (qy_i - q\bar{y})^2}} = \frac{pq}{|pq|} \cdot \frac{\sum_{i=1}^n (x_i - \bar{x})(y_i - \bar{y})}{\sqrt{\sum_{i=1}^n (x_i - \bar{x})^2 \sum_{i=1}^n (y_i - \bar{y})^2}} = \frac{pq}{|pq|} \cdot r_{(x,y)}, \end{aligned}$$

①若 $pq > 0$ ， $\frac{pq}{|pq|} = \frac{pq}{pq} = 1$ ，則 $r_{(w,z)} = r_{(x,y)}$ 。

②若 $pq < 0$ ， $\frac{pq}{|pq|} = \frac{pq}{-pq} = -1$ ，則 $r_{(w,z)} = -r_{(x,y)}$ 。

(2) $pq = 1000 \times (-500) < 0$ ，故 $r_{(x',y')} = -r_{(x,y)} = -0.56$ 。

6-2 二維數據分析(常考題型 4)

有 20 筆數據 (x_i, y_i) , $i=1, 2, \dots, 20$. 其平均 $\bar{x}=3$, $\bar{y}=5$, x 與 y 的相關係數 $r=0.8$, 且 y 對 x 的迴歸直線通過點 $(2,0)$. 選出正確的選項. (1) X 與 Y 為正相關 (2)迴歸直線通過點 $(3,5)$ (3)迴歸直線的斜率為 0.8 (4)迴歸直線通過點 $(4,10)$ (5) x 的標準差小於 y 的標準差.



解答

1245

解析

(1)相關係數為正數, 所以 X 與 Y 為正相關

(2)迴歸直線必過 $(\bar{x}, \bar{y})=(3,5)$.

(3)已知迴歸直線通過 $(\bar{x}, \bar{y})=(3,5)$ 及 $(2,0)$, 因此直線斜率為 $\frac{5-0}{3-2}=5$.

(4)由(3)得迴歸直線的方程式為 $y-5=5(x-3) \Rightarrow y=5x-10$.

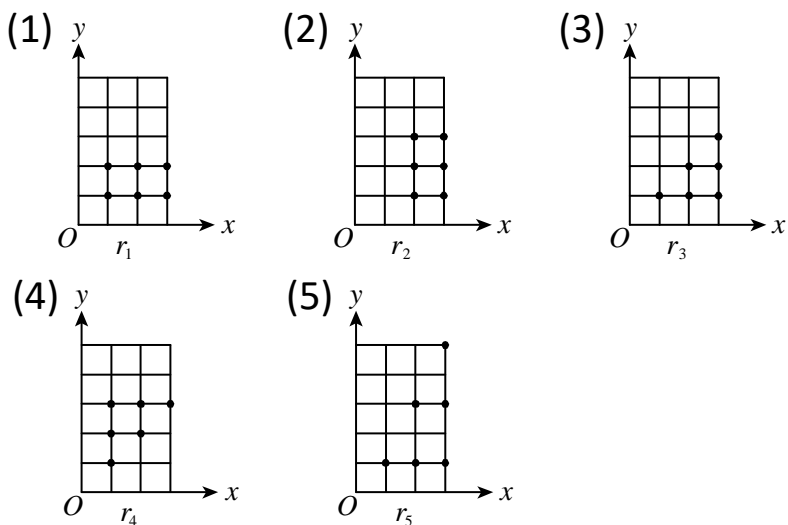
將 $x=4$ 代入迴歸直線方程式得 $y=5 \cdot 4 - 10 = 10$, 迴歸直線過點 $(4,10)$.

(5)因為迴歸直線的斜率為 $r \cdot \frac{\sigma_y}{\sigma_x}$, 所以 $0.8 \times \frac{\sigma_y}{\sigma_x} = 5 \Rightarrow \sigma_y = \frac{25}{4} \sigma_x$.

因此 x 的標準差小於 y 的標準差. 故選項(1)(2)(4)(5)正確.

6-2 二維數據分析(常考題型 5)

下圖中有五組數據，每組各有六個資料點。各組的相關係數分別為 r_1, r_2, r_3, r_4, r_5 ，試比較其大小關係。

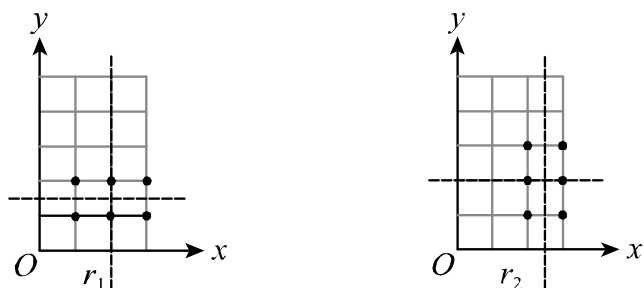


解答

$$r_1 = r_2 < r_3 = r_4 = r_5$$

解析

比較 r_1 與 r_2 ，作 \bar{x} 與 \bar{y} 線如圖所示：



所有點對稱分布在四個象限，其 $(x_i - \mu_x)(y_i - \mu_y)$ 的總和為 0，故 $r_1 = r_2 = 0$ 。

圖(3)(4)(5)中，當 x 增加時， y 有增加趨勢，其相關係數均大於 0，將圖(3)中的點 x 坐標與 y 坐標互換，恰為圖(4)中的點，故 $r_4 = r_3$ ，將圖(3)中的點 x 坐標保持不變，而 y 坐標乘以 2 再減去 1，即為圖(5)中的點，故 $r_5 = r_3$ 。

答案為 $r_1 = r_2 < r_3 = r_4 = r_5$ 。

6-2 二維數據分析(常考題型 6)

某肥皂廠商欲推出一種新產品,在上市以前以不同的單價 x (單位: 10 元), 調查市場的需求量 y (單位: 萬盒). 調查結果如下:



x	8	9	11	12
y	11	12	8	9

(1) 試求 y 對 x 的迴歸直線為_____.

(2) 當單價定為 100 元時,
請預測其銷售量為_____萬盒.

解答 (1) $y = -\frac{4}{5}x + 18$; (2) 10 萬盒

解析 (1) (利用公式) 因為 $\bar{x} = 10$, $\bar{y} = 10$, 且

x	8	9	11	12	和
y	11	12	8	9	
$x - \bar{x}$	-2	-1	1	2	
$y - \bar{y}$	1	2	-2	-1	
$(x - \bar{x})^2$	4	1	1	4	10
$(x - \bar{x})(y - \bar{y})$	-2	-2	-2	-2	-8

$$m = \frac{\sum_{i=1}^4 (x_i - \bar{x})(y_i - \bar{y})}{\sum_{i=1}^4 (x_i - \bar{x})^2} = \frac{-8}{10} = -\frac{4}{5}, \text{ 故 } y \text{ 對 } x \text{ 的迴歸直線為}$$

$$y - 10 = -\frac{4}{5}(x - 10) \Rightarrow y = -\frac{4}{5}x + 18.$$

(2) 當 $x = 10$ 時, 得 $y = -\frac{4}{5} \times 10 + 18 = 10$ (萬盒).

6-2 二維數據分析(常考題型 7)

某一實驗測得 15 組樣本點 $(x_1, y_1), (x_2, y_2), \dots, (x_{15}, y_{15})$, 已知 $\sum_{i=1}^{15} x_i = 165$, $\sum_{i=1}^{15} y_i = 315$, $\sum_{i=1}^{15} (x_i - \bar{x})^2 = 64$, $\sum_{i=1}^{15} (y_i - \bar{y})^2 = 144$, 及 $\sum_{i=1}^{15} (x_i - \bar{x})(y_i - \bar{y}) = 0$, 則



- (1) x 與 y 的相關係數為_____。
 (2) Y 對 X 的迴歸直線為_____。
 (3) 若再增加一組數據 $(20, 21)$, 則滿足這 16 個數據之 Y 對 X 的迴歸直線為_____。

解答 (1) 0; (2) $y = 21$; (3) $y = 21$

解析 (1) $r = \frac{\sum_{i=1}^{15} (x_i - \bar{x})(y_i - \bar{y})}{\sqrt{\sum_{i=1}^{15} (x_i - \bar{x})^2 \cdot \sum_{i=1}^{15} (y_i - \bar{y})^2}} = 0$.

(2) $m = r \cdot \frac{\sigma_y}{\sigma_x} = 0$, 故 y 對 x 的迴歸直線為 $y - 21 = 0 \Rightarrow y = 21$.

(3) 增加的點 $(20, 21)$ 也在直線 $y = 21$ 上, 並不影響, 故這 16 個數據之 y 對 x 的迴歸直線仍為 $y = 21$.

6-2 二維數據分析(常考題型 8)

設 $(3, 1), (5, 3), (1, t)$ 為三筆 (x, y) 的數據資料, 其 Y 對 X 的迴歸直線為 $y = \frac{1}{4}x + \frac{5}{4}$, 求 t 之值.



解答 2

解析 兩變量的算術平均數

$$\bar{x} = \frac{3+5+1}{3} = 3, \quad \bar{y} = \frac{1+3+t}{3} = \frac{4+t}{3}$$

由於 Y 對 X 的迴歸直線必過此三筆資料的平均數 (\bar{x}, \bar{y}) ,

代入得 $\frac{4+t}{3} = \frac{1}{4} \times 3 + \frac{5}{4}$, 整理得 $t = 2$.

6-2 二維數據分析(常考題型 9)

高三某班學生的身高平均 $\mu_x = 165$ 公分，身高的標準差 $\sigma_x = 10$ 公分；體重平均 $\mu_y = 50$ 公斤，標準差 $\sigma_y = 8$ 公斤。而身高和體重的相關係數 $r = 0.72$ 。



(1) 求體重 y 對身高 x 的迴歸直線方程式。

(2) 若已知某人的身高為 175 公分，我們可預測：其體重約為多少公斤？

(3) 若將身高單位改為吋，新的身高 (x' 吋) 與體重 (y 公斤) 的相關係數為多少？

解答

(1) $y - 50 = 0.576(x - 165)$; (2) 55.76 公斤; (3) 0.72

解析

(1) 迴歸直線方程式 $y - \mu_y = m(x - \mu_x)$ ，其中 $m = r \cdot \frac{\sigma_y}{\sigma_x} = 0.72 \times \frac{8}{10} = 0.576$ ，

故迴歸直線為 $y - 50 = 0.576(x - 165)$ 。(或 $y = 0.576x - 45.04$)。

(2) $x = 175$ 代入 $y - 50 = 0.576(x - 165)$ ，得 $y = 50 + 5.76 = 55.76$ (公斤)。

(3) 相關係數與單位無關。改變 X 的度量單位時，相關係數不會改變。

故 $r = 0.72$ 。